



Ce document a été numérisé par le CRDP
d'Alsace pour la Base Nationale des Sujets
d'Examens de l'enseignement
professionnel

Ce fichier numérique ne peut être reproduit, représenté, adapté ou traduit sans autorisation

C.A.P Cordonnier bottier

SESSION 2009

Épreuve EP1

Réalisation et technologie – Partie A

DOSSIER TRAVAIL

Il est demandé au candidat :

- De contrôler si le dossier est complet,
- De compléter l'entête ci-dessus,
- De ne pas dégrafer les feuilles,
- De vérifier que toutes les feuilles sont remplies à la fin de l'épreuve,
- De rendre ce dossier en fin d'épreuve.

NOTE FINALE CAP

Note arrondie en point entier ou ½ point

...../20

Sujet National	Session : 2009	Code : 5024313	
Examen : C.A.P Cordonnier bottier			
Epreuve : EP1 – Réalisation et technologie – Partie A : Partie écrite			
SUJET	Durée : 4 h	Coef : 4	DT : 1 sur 9

NE RIEN ECRIRE DANS CETTE PARTIE

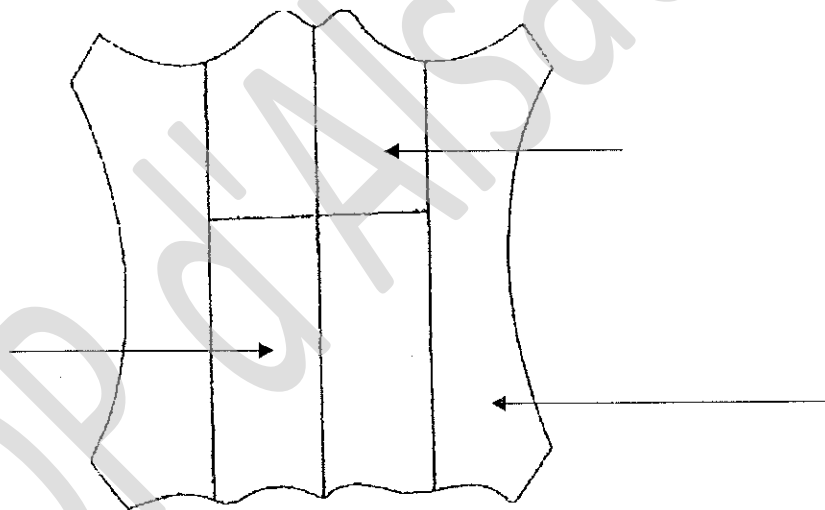
Mise en situation

Un bottier souhaite évaluer les connaissances théoriques de son apprenti, pour cela il lui pose différentes questions sur le cuir et le procédé de fabrication de la chaussure.

QUESTION N°1 :

/ 3 pts

Inscrire sur le dessin ci-dessous les principales parties d'une peau :



QUESTION N°2 :

/ 3 pts

Indiquer par des flèches le cuir utilisé pour chaque élément de la chaussure :

Les sous-bouts

Le bonbout

Le bout dur

La première

La semelle

La trépointe

Collet battu

Croupon

Collet non battu

TOTAL DES POINTS OBTENUS :

/ 6 pts

Examen : C.A.P Cordonnier Bottier

Code : 5024313

Epreuve : EP1 – Réalisation et technologie – Partie A : Partie écrite

DT : 2 sur 9

NE RIEN ECRIRE DANS CETTE PARTIE

QUESTION N°3 :

/ 3 pts

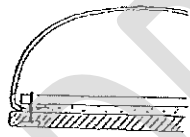
Inscrire dans la case le numéro correspondant à l'ordre chronologique des phases du travail de rivière :

Ebourrage et écharnage	Epilage	Déchaulage	Pelannage	Trempe ou reverdissage

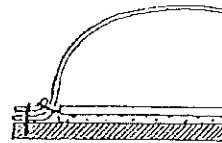
QUESTION N°4 :

/ 4 pts

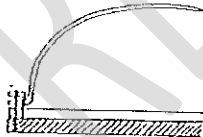
Nommer pour chaque coupe ci-dessous le type de fabrication correspondant :



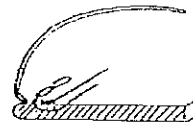
.....



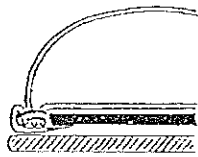
.....



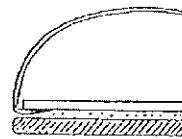
.....



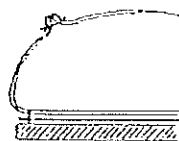
.....



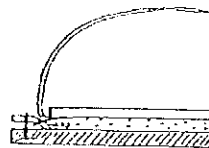
.....



.....



.....



.....

TOTAL DES POINTS OBTENUS :

/ 7 pts

Examen : C.A.P Cordonnier Bottier	Code : 5024313
Epreuve : EP1 – Réalisation et technologie – Partie A : Partie écrite	DT : 3 sur 9

NE RIEN ECRIRE DANS CETTE PARTIE

QUESTION N°5 :

/ 5 pts

Qu'est-ce qui, au niveau du montage de la tige, différencie un Mocassin d'un Loafer ?

.....
.....

QUESTION N°6 :

/ 3 pts

Quelle est la différence entre un montage cousu GOODYEAR et un montage cousu TREPOINTE ?

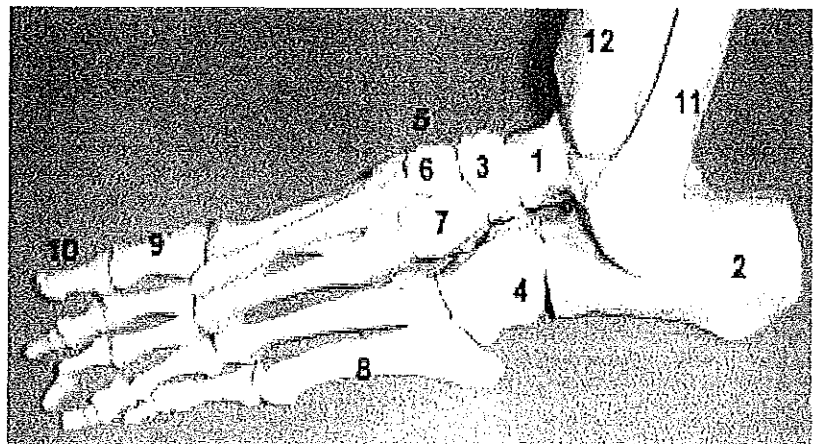
.....
.....

QUESTION N°7 :

/ 6 pts

Nommer les différents os du pied sur le schéma ci-dessous :

N°	NOM
1	
2	
3	
4	
5	
6	
7	
8	
9	
10	
11	
12	



TOTAL DES POINTS OBTENUS :

/ 14 pts

Examen : C.A.P Cordonnier Bottier	Code : 5024313
Epreuve : EP1 – Réalisation et technologie – Partie A : Partie écrite	DT : 4 sur 9

NE RIEN ECRIRE DANS CETTE PARTIE

QUESTION N° 8 :

/ 3 pts

Le quartier externe de la tige à une hauteur différente de l'interne, pourquoi ?

Cocher la ou les bonnes réponses

Pour ne pas blesser la malléole externe qui est plus basse que la malléole interne

Pour ne pas blesser la malléole interne qui est plus basse que la malléole externe

Pour ne pas blesser la malléole interne qui est plus haute que la malléole externe

QUESTION N° 9 :

/ 6 pts

Indiquer, pour chaque loge osseuse, le nombre d'os qui la compose :

Loge osseuse	Nombre d'os
le tarse	
le métatarse	
les orteils	

TOTAL DES POINTS OBTENUS :

/ 9 pts

Examen : C.A.P Cordonnier Bottier	Code : 5024313
Epreuve : EP1 – Réalisation et technologie – Partie A : Partie écrite	DT : 5 sur 9

NE RIEN ECRIRE DANS CETTE PARTIE

QUESTION N° 10 :

/ 10 pts

Réaliser la gamme opératoire du changement d'un bonbout en cuir coin caoutchouc :

PHASES	OPERATIONS	MATERIAUX	OUTILS
1	Démonter l'ancien bonbout		pince coupante

TOTAL DES POINTS OBTENUS :

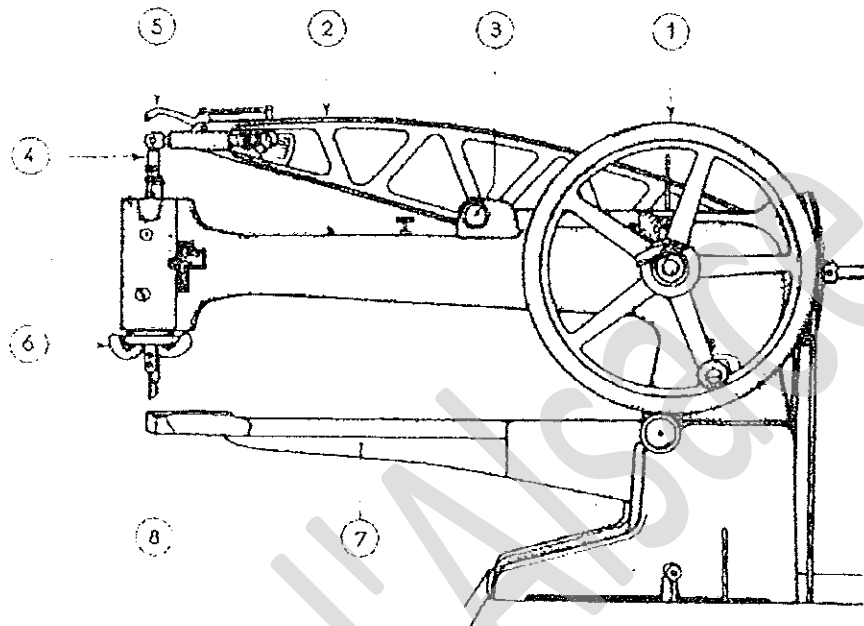
/ 10 pts

NE RIEN ECRIRE DANS CETTE PARTIE

QUESTION N° 11 :

/ 4 pts

Indiquer dans le tableau ci-dessous le nom des pièces de la machine à coudre réparation :



N°	Nom de la pièce
1	
2	
3	
4	
5	
6	
7	
8	

TOTAL DES POINTS OBTENUS :

/ 4 pts


Examen : C.A.P Cordonnier Bottier	Code : 5024313
Epreuve : EP1 – Réalisation et technologie – Partie A : Partie écrite	DT : 7 sur 9

NE RIEN ECRIRE DANS CETTE PARTIE

QUESTION N°12 :

/ 5 pts

Nommer les parties du banc de finissage indiquées par les flèches :



QUESTION N°13 :

/ 5 pts

Donner cinq consignes de sécurité à respecter lors de l'utilisation du banc de finissage ?

-
-
-
-
-

TOTAL DES POINTS OBTENUS :

/ 10 pts

Examen : C.A.P Cordonnier Bottier	Code : 5024313
Epreuve : EP1 – Réalisation et technologie – Partie A : Partie écrite	DT : 8 sur 9

NE RIEN ECRIRE DANS CETTE PARTIE

RELEVÉ DE NOTES

PAGE N°2	/6
PAGE N°3	/7
PAGE N°4	/14
PAGE N°5	/9
PAGE N°6	/10
PAGE N°7	/4
PAGE N°8	/10
TOTAL	/60
NOTE	/20